

平成27年 6月 3日

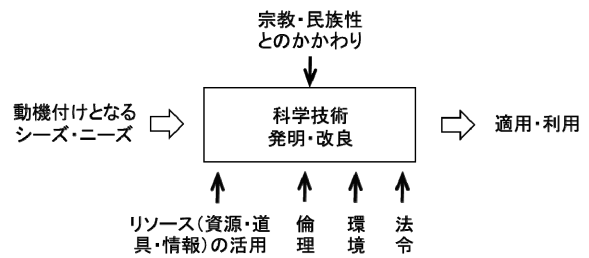
科学・技術 概論 受講者各位

共生システム理工学類
教授 樋口 良之

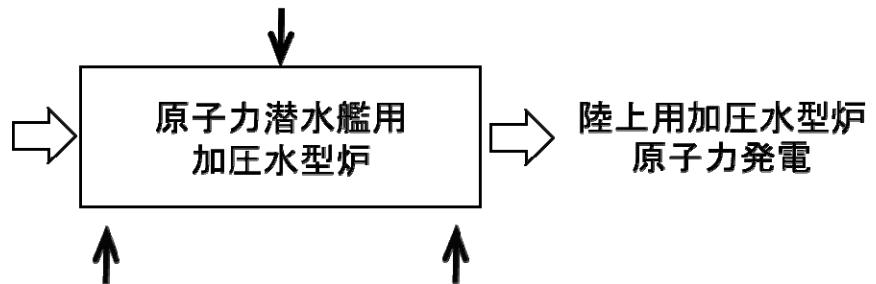
授業内課題

回答者 学籍番号： _____ 氏名： _____

課題1 右図の科学技術の発展モデルに基づき、加圧水型炉原子力発電について、潜水艦用から陸上発電用への発展を図示して、解説しなさい。



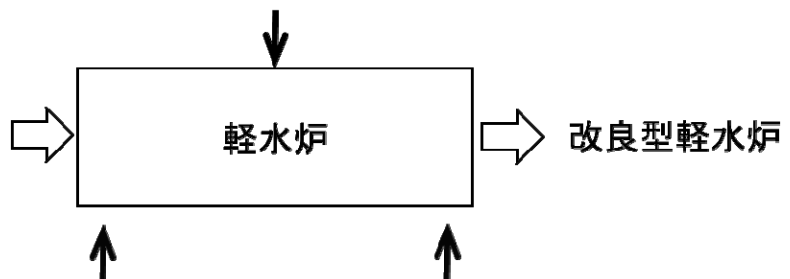
(図示) 図中の矢印は増やしてもかまわない。



(解説)

課題2 課題1と同じように、科学技術の発展モデルに基づき、1980年代の日本の改良型原子炉の原子力発電について図示して、解説しなさい。

(図示) 図中の矢印は増やしてもかまわない。



(解説)